


کد کنترل

156


C



156C

صبح جمعه

۱۴۰۲/۱۲/۰۴



جمهوری اسلامی ایران
وزارت علوم، تحقیقات و فناوری
سازمان سنجش آموزش کشور

«در زمینه مسائل علمی، باید دنبال قله بود.»
مقام معظم رهبری

آزمون ورودی دوره‌های کارشناسی ارشد ناپیوسته داخل - سال ۱۴۰۳

مهندسی مکانیک (کد ۱۲۶۷)

مدت زمان پاسخگویی: ۱۸۰ دقیقه

تعداد سؤال: ۱۶۵

عنوان مواد امتحانی، تعداد و شماره سؤال‌ها

ردیف	مواد امتحانی	تعداد سؤال	از شماره	تا شماره
۱	زبان عمومی و تخصصی (انگلیسی)	۲۵	۱	۲۵
۲	ریاضیات (ریاضی عمومی (۱ و ۲)، معادلات دیفرانسیل، ریاضی مهندسی)	۲۰	۲۶	۴۵
۳	حرارت و سیالات (ترمودینامیک، مکانیک سیالات، انتقال حرارت)	۲۰	۴۶	۶۵
۴	جامدات (استاتیک، مقاومت مصالح، طراحی اجزا)	۲۰	۶۶	۸۵
۵	دینامیک و ارتعاشات (دینامیک، ارتعاشات، دینامیک ماشین، کنترل)	۲۰	۸۶	۱۰۵
۶	ساخت و تولید (ماشین ابزار، قالب پرس، علم مواد، تولید مخصوص، هیدرولیک و نیوماتیک)	۲۰	۱۰۶	۱۲۵
۷	مبانی بیومکانیک (۱ و ۲)	۲۰	۱۲۶	۱۴۵
۸	دروس پایه پزشکی (فیزیولوژی، آناتومی و فیزیک پزشکی)	۲۰	۱۴۶	۱۶۵

توجه: متقاضیان رشته «مهندسی پزشکی» به‌جای دروس ۵ و ۶ می‌توانند دروس ۷ (مبانی بیومکانیک (۱ و ۲)) و ۸ (دروس پایه پزشکی (فیزیولوژی، آناتومی و فیزیک پزشکی)) را انتخاب نمایند.

این آزمون، نمره منفی دارد.

استفاده از ماشین حساب مجاز نیست.

حق چاپ، تکثیر و انتشار سؤالات به هر روش (الکترونیکی و ...) پس از برگزاری آزمون، برای تمامی اشخاص حقیقی و حقوقی تنها با مجوز این سازمان مجاز می‌باشد و با متخلفین برابر مقررات رفتار می‌شود.

at home, while less well-off children were taught in groups. Teaching conditions for teachers could differ greatly. Tutors who taught in a wealthy family did so in comfort and with facilities; (10) been brought to Rome as slaves, and they may have been highly educated.

- 8- 1) which depending 2) and depended
3) for depended 4) that depended
- 9- 1) have employed 2) employed
3) were employed 4) employing
- 10- 1) some of these tutors could have 2) because of these tutors who have
3) that some of them could have 4) some of they should have

PART C: Reading Comprehension

Directions: Read the following three passages and answer the questions by choosing the best choice (1), (2), (3), or (4). Then mark the correct choice on your answer sheet.

PASSAGE 1:

In the Philippines, the motorized tricycle is one of the most common means of public transportation. Motorized tricycles are exposed to a repetitive stop and go motion especially on the tricycle since the road scenario in most areas is characterized with moderate to heavy traffic most of the time. This states that the tricycle utilizes the braking system often, thus wasting energy due to braking. Heat energy loss is always present in the braking system of a vehicle; due to this phenomenon, a method was developed to recover and store the energy loss due to the friction in the brakes. With the use of the regenerative braking, the energy loss due to braking could be stored for another use.

Regenerative braking is a type of braking system that can recover and store the kinetic energy produced by the car and convert the recovered energy into either mechanical or electrical energy. In order to store the kinetic energy recovered by the braking system, a mechanical component called flywheel is used. The amount of the kinetic energy that may be gathered depends on the inertia and the speed of the rotating mass or flywheel; this energy is stored as a rotational energy. With the concept of the flywheel and the regenerative brakes, the mechanical kinetic energy recovery system (KERS) is utilized. KERS is a system that recovers and stores the kinetic energy that would be otherwise converted to heat energy during braking and use it for other applications in the vehicle.

- 11- The word “exposed” in paragraph 1 can best be replaced by
1) invulnerable 2) indispensable 3) designed 4) subject
- 12- According to paragraph 1, which of the following statements is true if regenerative braking is used?
1) the energy loss due to braking could be stored for another use.
2) the breaking efficiency of the vehicle is tremendously increased.
3) the balance of the vehicle, while breaking, is maintained.
4) the friction in the vehicle can be reduced.

- 13- The word “it” in paragraph 2 refers to
1) braking 2) system
3) kinetic energy 4) heat energy
- 14- According to the passage, all of the following statements are true EXCEPT that
1) KERS recovers and stores the kinetic energy that would be otherwise converted to heat energy during braking.
2) Flywheel is an electrical component that prevents the vehicle from overheating.
3) The flywheel stores the kinetic energy recovered by the braking system.
4) Heat energy loss is always present in the braking system of a vehicle.
- 15- Which of the following best describes the tone of the passage?
1) Passionate 2) Ambivalent
3) Objective 4) Ironic

PASSAGE 2:

One of the most diverse and versatile engineering fields, mechanical engineering is the study of objects and systems in motion. As such, the field of mechanical engineering touches virtually every aspect of modern life, including the human body, a highly complex machine. [1] The role of a mechanical engineer is to take a product from an idea to the marketplace. To accomplish this, the mechanical engineer must be able to determine the forces and thermal environment that a product, its parts, or its subsystems will encounter; design them for functionality, aesthetics, and durability; and determine the best manufacturing approach that will ensure operation without failure. [2]

Mechanical engineers play key roles in a wide range of industries including automotive, aerospace, biotechnology, computers, electronics, energy conversion, robotics and automation, and manufacturing. The American Society of Mechanical Engineers (ASME) currently lists 36 technical divisions, from aerospace engineering to textile engineering. [3] The breadth of the mechanical engineering discipline allows students a variety of career options beyond the industries listed above. Regardless of the particular path they envision for themselves, a mechanical engineering education empowers students with creative thinking skills to design an exciting product or system; analytical tools to achieve their design goals; the ability to overcome all constraints; and the teamwork needed to design, market, and produce a system. [4]

- 16- The word “motion” in paragraph 1 is closest in meaning to
1) theory 2) factory
3) laboratory 4) movement
- 17- The word “its” in paragraph 1 refers to
1) product 2) durability
3) environment 4) marketplace
- 18- The passage mentions all of the following EXCEPT
1) automation 2) durability
3) analytical tools 4) critical thinking

- 19- According to the passage, which of the following statements is true?
- 1) The education mechanical engineering offers to students of each technical division is completely different from that of other divisions.
 - 2) The role of a mechanical engineer is not confined simply to the functionality of a product.
 - 3) Mechanical engineering, as a discipline, is limited in scope, as it is confined to a certain narrow aspect of human life.
 - 4) ASME is a key institute in designing the curriculum for engineering students.
- 20- In which position marked by [1], [2], [3] or [4], can the following sentence best be inserted in the passage?
- These valuable skills can be applied to launch careers in many other fields, such as medicine, law, consulting, management, banking, and finance.**
- 1) [1] 2) [2] 3) [3] 4) [4]

PASSAGE 3:

Tracing the beginning of a subject is like tracing the source of a river—the Thames or the Danube say. But the Danube has its place that is pointed to as its start—Donaueschingen – and Computer Aided Design (CAD) does too. Mechanical engineering has the distinction of being the discipline which fathered the birth of CAD, 30 years ago. MIT provided the fertile ground. In the early 1950s, the Computer Applications Group of the Electronic Systems Laboratory (formerly the Servomechanisms Laboratory) pioneered paper tape control of machine tools leading in the later 1950s to the development at ITRI of the APT language for automatic programming of tool movements.

In 1958, Dwight Baumann and Steven Anson Coons of MIT Mechanical Engineering approached Douglas Ross of MIT Computer Applications Group, “to see whether it might be possible to take another important step beyond APT,” then want to use the computer “in a much more direct and powerful way in the chain of events that begins with the original concept as envisaged by the designer and culminates in the production of the finished device”, words which were far-seeing. At that 1958 meeting, a system was outlined that would bind man and machine “in an intimate co-operative complex, a combination that would use the creative and imaginative powers of the man and the analytical and computational powers of the machine each with the greatest possible economy and efficiency.” They envisaged the designer inputting at the screen, calling for structural analysis, for tests of clearance between adjacent parts or for calculations to optimize the design.

- 21- According to paragraph 1, which of the following statements is true?
- 1) It was roughly 30 years ago that mechanical engineering emerged as a discipline.
 - 2) Mechanical engineering played an indispensable role in the emergence of CAD.
 - 3) Identifying the beginning of a subject is impossible, like tracing the source of a river.
 - 4) MIT was in fact the fertile ground where mechanical engineering reached its culmination as a discipline.
- 22- Why does the author mention the Thames and the Danube in paragraph 1?
- 1) To illustrate a point in the passage further
 - 2) To mention two rivers where mechanical experiments are conducted
 - 3) To mention two rivers, which remind the author of his home country
 - 4) To draw attention to the environmental aspects of mechanical engineering

- 23- According to the passage, which of the following statements is true?
- 1) Dwight Baumann and Douglas Ross were colleagues at MIT Mechanical Engineering department.
 - 2) The MIT meeting, which took place roughly in the mid-19th century, was an important event in the development of CAD.
 - 3) In the meeting of the three MIT-affiliated figures in 1958, a system was proposed in basic form to combine the computational powers of the machine and the creative powers of man.
 - 4) The Servomechanisms Laboratory previously known as the Computer Applications Group of the Electronic Systems Laboratory played a role in the development of APT.
- 24- Which of the following words best describes the author's attitude to the meeting in 1958?
- 1) Ambivalent
 - 2) Approving
 - 3) Disapproving
 - 4) Ironic
- 25- The passage provides sufficient information to answer which of the following questions?
- I. In which country are the rivers Thames or the Danube located?
 - II. What was the factor that led to the development of a language used for automatic programming of tool movements?
 - III. Who is considered to be the father of mechanical engineering?
- 1) Only I
 - 2) Only II
 - 3) Only III
 - 4) II and III

ریاضیات (ریاضی عمومی (۱ و ۲)، معادلات دیفرانسیل، ریاضی مهندسی):

۲۶- اگر $z = \sum_{n=1}^{99} (1+i)^n$ ، آنگاه مقدار $\operatorname{Re}(z)$ کدام است؟

- (۱) -۲
- (۲) -۱
- (۳) صفر
- (۴) ۱

۲۷- مقدار $\lim_{x \rightarrow +\infty} x^3 \int_0^{x^{-2}} e^{t^3} \sin t \, dt$ ، کدام است؟

- (۱) صفر
- (۲) $\frac{2}{3}$
- (۳) ۲
- (۴) $+\infty$

۲۸- شعاع استوانه مستدیر قائمی 3 cm است که با سرعت $2 \frac{\text{cm}}{\text{s}}$ افزایش می‌یابد. ارتفاع استوانه 5 cm و با

سرعت $3 \frac{\text{cm}}{\text{s}}$ کاهش می‌یابد. مساحت کل این استوانه با چه سرعتی تغییر می‌کند؟

- (۱) با سرعت $16 \circ \pi \frac{\text{cm}^2}{\text{s}}$ کاهش می‌یابد.
- (۲) با سرعت $16 \circ \pi \frac{\text{cm}^2}{\text{s}}$ افزایش می‌یابد.
- (۳) با سرعت $26 \circ \pi \frac{\text{cm}^2}{\text{s}}$ کاهش می‌یابد.
- (۴) با سرعت $26 \circ \pi \frac{\text{cm}^2}{\text{s}}$ افزایش می‌یابد.

۲۹- تعداد نقاط بحرانی تابع $f(x, y) = 4x^2 - 3xy + 2y^2$ به شرط $x^2 + y^2 = 1$ کدام است؟

(۱) ۴

(۲) ۳

(۳) ۲

(۴) ۱

۳۰- مقدار $\sum_{n=1}^{\infty} \ln\left(\frac{n(2n+1)}{2n^2+n-1}\right)$ ، کدام است؟

(۱) $-\ln 3$

(۲) $-\ln 2$

(۳) $\ln 2$

(۴) $\ln 3$

۳۱- فرض کنید $f(u, v) = uve^{-(u^2+v^2)}$ مقدار $\frac{\partial}{\partial y} \left(\int_{-\infty}^{\sqrt{y}} \int_{-\infty}^{y+1} f(u, v) du dv \right)$ به ازای $y = 1$ ، کدام است؟

(۱) $-\frac{3}{2e^5}$

(۲) $-\frac{5}{4e^5}$

(۳) صفر

(۴) $\frac{3}{2e^5}$

۳۲- فرض کنید مشتقات جزئی مرتبه اول تابع $f = f(x, y)$ موجود و پیوسته باشند. اگر

$$\lim_{x \rightarrow 0} \frac{f(x + e^{-2x}, x + e^{2x}) - f(2x + e^{-x}, 2x + e^x)}{x} = 1$$

آنگاه مقدار $f_x(1, 1)$ کدام است؟

(۱) -۱

(۲) $-\frac{1}{2}$

(۳) $\frac{1}{2}$

(۴) ۱

۳۳- مقدار $\int_{-1}^1 \int_{|y|}^1 \frac{x+y}{1+x^6} dx dy$ ، کدام است؟

(۱) $\frac{\pi}{6}$

(۲) $\frac{\pi}{3}$

(۳) $\frac{\pi}{2}$

(۴) π

۳۴- حجم ناحیه‌ای از فضا که از پایین به صفحه xy و از بالا به رویه $\rho = 1 - \cos \phi$ زاویه بین شعاع حامل و محور z در مختصات کروی است) محصور می‌باشد، کدام است؟

(۱) $\frac{8\pi}{3}$

(۲) $\frac{5\pi}{2}$

(۳) $\frac{\pi}{2}$

(۴) $\frac{\pi}{6}$

۳۵- شارگذرای میدان برداری $\vec{F}(x, y, z) = (3x + yz^2)\hat{i} + (2y + x^2)\hat{j} + (3z + 4xy)\hat{k}$ در جهت بردار قائم برونسوی سطح یک طرف باز Δ برابر $\frac{77}{15}$ است. اگر سطح Δ صفحه $z = 0$ را در منحنی‌های $x = 2y - y^2$ و $x = 0$ قطع کرده و تصویر آن درون ناحیه محصور به منحنی‌های مزبور قرار گیرد، آنگاه حجم ناحیه درون سطح Δ بالای صفحه xy ، کدام است؟

(۱) $\frac{109}{120}$

(۲) $\frac{3}{4}$

(۳) $\frac{1}{2}$

(۴) $\frac{3}{8}$

۳۶- فرض کنید $y = \ln x$ یک جواب معادله دیفرانسیل $y' = e^{-y}x^2 + \frac{1}{x} - e^y$ باشد. اگر $g(x) = \frac{2ce^{x^2} + 1}{2ce^{x^2} - 1}$ و

$y_c(x)$ جواب عمومی معادله باشد، آنگاه $\exp(y_c(x))$ کدام است؟

(۱) $\frac{1}{xg(x)}$

(۲) $\frac{x}{g(x)}$

(۳) $\frac{1}{x}g(x)$

(۴) $xg(x)$

۳۷- فرض کنید $y_1(x) = \sin x$ و دو جواب مستقل خطی یک معادله دیفرانسیل خطی مرتبه دوم همگن باشند. اگر رونسکین آنها در بازه $(0, \frac{\pi}{4})$ برابر $\sin^2(x)$ باشد، آنگاه $y_2(x)$ کدام است؟

(۱) $x \tan x$

(۲) $x \cot x$

(۳) $x \sin x$

(۴) $x \cos x$

۳۸- حاصل $\int x^3 J_0(x) dx$ ، کدام است؟

(راهنمایی: $(x^\lambda J_\lambda(x))' = x^\lambda J_{\lambda-1}(x)$, $J_{\lambda+1}(x) + J_{\lambda-1}(x) = \frac{2\lambda}{x} J_\lambda(x)$)

(۱) $x^3 (xJ_1(x) - 2J_2(x))$

(۲) $x^3 J_1(x) + 2x^3 J_2(x)$

(۳) $x^3 J_1(x) - xJ_2(x)$

(۴) $xJ_1(x) - 2J_2(x)$

۳۹- فرض کنید $f(t) = t^n e^{-t}$. تبدیل لاپلاس $g(t) = e^t \frac{d^n f(t)}{dt^n}$ ، کدام است؟

(۱) $\frac{\Gamma(n)(s-1)^n}{s^{n+1}}$

(۲) $\frac{n!(s-1)^n}{s^{n+1}}$

(۳) $\frac{(n+1)!s^n}{(s-1)^{n+1}}$

(۴) $\frac{\Gamma(n)s^n}{(s-1)^{n+1}}$

۴۰- جواب $y = y(x)$ از حل معادله انتگرال $\int_0^1 \frac{y(xt)}{\sqrt{1-t}} dt = \sqrt{x}$ ، کدام است؟

(۱) $\frac{1}{\pi x}$

(۲) $\frac{2}{\pi\sqrt{x}}$

(۳) $\frac{1}{\pi}\sqrt{x}$

(۴) $\frac{2}{\pi}x$

۴۱- اگر $f(x)$ تبدیل فوریه معکوس تابع $F(\omega) = \frac{e^{2i\omega}}{(2+i\omega)^2}$ باشد، مقدار $f(3) + f(-3)$ کدام است؟

(راهنمایی: $F(\omega) = \int_{-\infty}^{\infty} f(x)e^{-i\omega x} dx$)

(۱) $3e^{-10}$

(۲) $5e^{-10}$

(۳) $3e^{-6}$

(۴) $5e^{-6}$

۴۲- برای حل مسئله موج زیر تغییر متغیر $u(x, y) = v(x, y) + w(x, y)$ را چنان به کار می گیریم

که $v_x(0, t) = v_x(\pi, t) = 0$ اگر $v(x, t) = \frac{1}{4}G_0(t) + \sum_{n=1}^{\infty} G_n(t) \cos nx$ جواب مسئله

متناظر با تغییر متغیر باشد، آنگاه $G_n(t)$, $(n \geq 1)$ در کدام معادله دیفرانسیل صدق می کند؟

$$\begin{cases} u_{tt} = 9u_{xx}, & 0 < x < \pi, t > 0 \\ u(x, 0) = u_t(x, 0) = u_x(0, t) = 0 \\ u_x(\pi, t) = \pi t^2, & t \geq 0 \end{cases}$$

$$G_n''(t) + 9n^2 G_n(t) = \frac{4(-1)^n}{n^2} \quad (1)$$

$$G_n''(t) + 9n^2 G_n(t) = \frac{2(-1)^n}{n} \quad (2)$$

$$G_n''(t) + 9n^2 G_n(t) = \frac{4(-1)^{n+1}}{n^2} \quad (3)$$

$$G_n''(t) + n^2 G_n(t) = \frac{2(-1)^{n+1}}{n} \quad (4)$$

۴۳- مقدار $\int_0^{2\pi} \frac{d\theta}{3 - 2\cos\theta + \sin\theta}$ ، کدام است؟

(1) π

(2) $\frac{4\pi}{3}$

(3) 2π

(4) $\frac{7\pi}{3}$

۴۴- مقدار $\oint_{|z|=2} \frac{\cosh(iz)}{z^2 + 4z + 3} dz$ ، کدام است؟

(1) $\pi \cosh(i)$

(2) $\pi i \cos(1)$

(3) $\pi \cosh(1)$

(4) $\pi i \cosh(1)$

۴۵- نگاشت مختلط w که ناحیه بین خطوط $y = x$ و $y = 0$ واقع در ربع اول صفحه مختصات را به درون دایره واحد بنگارد، کدام است؟

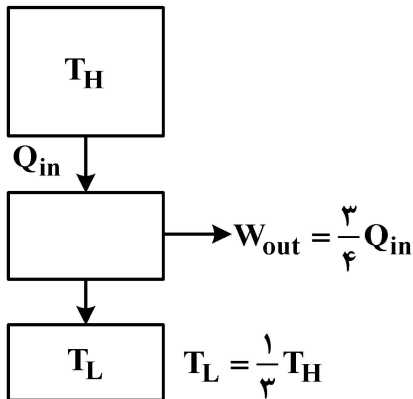
(1) $w = \frac{z^2 + i}{z^2 + 1}$

(2) $w = \frac{z^2 - i}{z^2 + 1}$

(3) $w = \frac{z^2 + 1}{z^2 - 1}$

(4) $w = \frac{z^2 - 1}{z^2 + 1}$

۴۶- یک ماشین گرمایی مطابق شکل زیر را در نظر بگیرید. با توجه به مقدار کار و دمای منبع سرد، کدام عبارت درست است؟



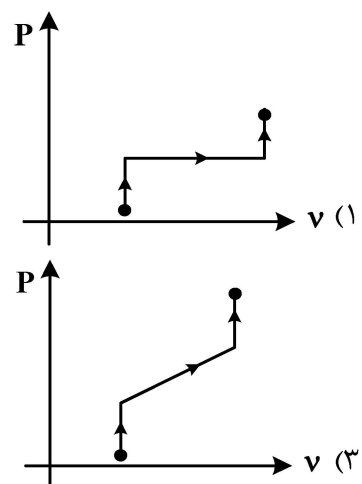
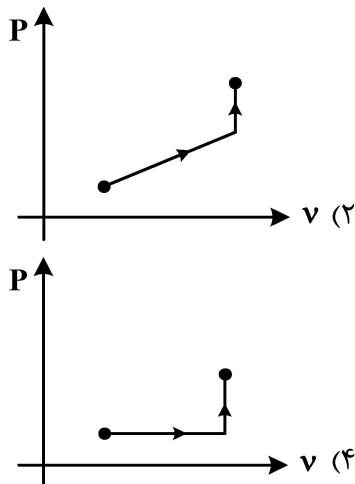
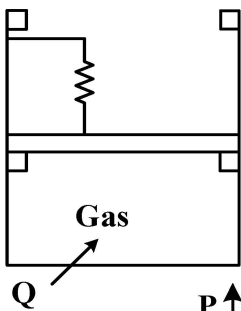
- (۱) ماشین گرمایی ناقص قانون دوم است.
- (۲) این چرخه ترمودینامیکی ماشین گرمایی نیست.
- (۳) ماشین گرمایی ناقص قانون دوم نیست و برگشت پذیر است.
- (۴) ماشین گرمایی ناقص قانون دوم نیست و برگشت ناپذیر است.

۴۷- دما و حجم یک گاز ایده آل در سیستم بسته از 300 K و 4 m^3 به ترتیب به 150 K و 1 m^3 تغییر می یابد.

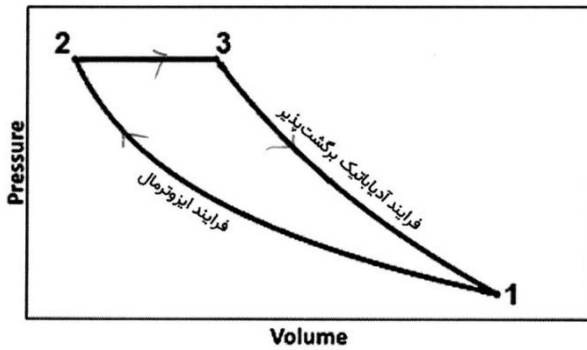
اگر $C_p = \frac{5}{2} R \frac{\text{kJ}}{\text{kg K}}$ ، تغییر آنترופی گاز کدام است؟

- (۱) $-\frac{5}{2} mR \ln 2$
- (۲) $-\frac{7}{2} mR \ln 2$
- (۳) $\frac{3}{2} mR \ln 2$
- (۴) $\frac{5}{2} mR \ln 2$

۴۸- حجم یک سیلندر توسط دو ردیف مانع بر روی جداره آن، بین دو مقدار معین کنترل می شود. پیستون توسط یک فنر خطی بارگذاری شده و در حالت اول پیستون بر روی مانع های پایینی قرار دارد. به گاز محبوس داخل سیلندر به آرامی حرارت می دهیم تا پیستون به مانع های بالایی برسد و باز هم پس از آن فرایند حرارت دهی را ادامه می دهیم. کدام شکل نمودار $P-v$ مناسبی برای فرایندهای طی شده توسط گاز است؟ (مقدار سختی فنر ثابت است).



۴۹- یک گاز ایده آل چرخه ای مطابق شکل زیر طی می کند (۱ → ۲ → ۳ → ۱). بازده حرارتی این چرخه کدام است؟



$$\eta = 1 - \frac{T_3 \ln \frac{T_3}{T_1}}{T_3 - T_1} \quad (۲)$$

$$\eta = 1 - \frac{T_1 \ln \frac{T_3}{T_1}}{T_3 - T_1} \quad (۱)$$

$$\eta = 1 - \frac{T_1 \ln \sqrt{\frac{T_3}{T_1}}}{T_3 - T_1} \quad (۴)$$

$$\eta = 1 - \frac{T_3 \ln \left(\frac{T_3}{T_1} \right)^2}{T_3 - T_1} \quad (۳)$$

۵۰- فرایند اختناقی کاهش فشار جریان را در عبور از یک شیر انبساطی در نظر بگیرید. یک بار آب در حالت مایع اشباع و بار دیگر هوا در حالت گاز ایدئال وارد شیر انبساطی می شوند و فشارشان کاهش می یابد. دمای این دو سیال چگونه تغییر می کند؟ (ضریب ژول تامسون کاهش فشار سیال مایع مثبت است.)

- (۱) دمای مایع اشباع ثابت، دمای هوا کاهش
 (۲) دمای مایع اشباع ثابت، دمای هوا ثابت
 (۳) دمای مایع اشباع کاهش، دمای هوا ثابت
 (۴) دمای مایع اشباع کاهش، دمای هوا کاهش

۵۱- رابطه ظرفیت گرمایی ویژه در حجم ثابت، کدام است؟

$$-T \left(\frac{\partial v}{\partial T} \right)_s \left(\frac{\partial s}{\partial v} \right)_T \quad (۱)$$

$$-T \left(\frac{\partial T}{\partial v} \right)_s \left(\frac{\partial P}{\partial T} \right)_T \quad (۲)$$

$$T \left(\frac{\partial s}{\partial T} \right)_P \quad (۳)$$

$$\left(\frac{\partial h}{\partial T} \right)_v \quad (۴)$$

۵۲- یک موتور گرمایی بازگشت پذیر (کارنو)، با یک سردساز بازگشت پذیر (کارنو) طوری به هم پیوند خورده اند، که تمام کار مورد نیاز سردساز توسط موتور گرمایی تأمین می شود. اگر ضریب عملکرد سردساز ۸ و بازده موتور گرمایی ۰/۴ باشد، نسبت مقدار انرژی حرارتی دریافتی از محیط سرد توسط سردساز به مقدار انرژی حرارتی دریافتی از منبع گرم توسط موتور گرمایی چقدر است؟

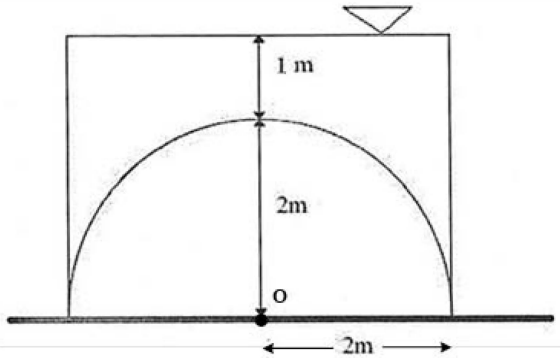
(۱) ۳/۲

(۲) ۰/۰۵

(۳) ۰/۳۱

(۴) ۲

۵۳- مقطع یک اکوارיום مطابق شکل شامل قوسی به شعاع ۲ متر و دیواره‌های جانبی است که آب در بالای آن ساکن است. اگر چگالی آب $\rho = 1000 \frac{\text{kg}}{\text{m}^3}$ و شتاب گرانش $g = 10 \frac{\text{m}}{\text{s}^2}$ باشد، نیروی عمودی وارد بر قوس (نیم‌استوانه) چند کیلونیوتن است؟ (عرض اکوارיום را یک متر فرض کنید).



۹۰/۲ (۱)

۵۷/۲ (۲)

۵۵/۲ (۳)

۴۸/۲ (۴)

۵۴- میدان سرعت برای یک جریان به صورت $\vec{V} = a(x+y)\hat{i} + a(x-y)\hat{j} + w\hat{k}$ است که ضرایب w و a ثابت هستند. در مورد این جریان، کدام عبارت درست است؟

(۱) جریان غیرچرخشی است و تابع جریان از رابطه $\psi = \frac{a}{2}(x^2 + 2xy - y^2) + wZ$ به دست می‌آید.

(۲) جریان تراکم‌پذیر است و تابع پتانسیل از رابطه $\Phi = \frac{a}{2}(x^2 + 2xy - y^2) + wZ$ به دست می‌آید.

(۳) جریان تراکم‌پذیر است و تابع جریان از رابطه $\psi = \frac{a}{2}(x^2 + 2xy - y^2) + wZ$ به دست می‌آید.

(۴) جریان تراکم‌ناپذیر است و تابع پتانسیل از رابطه $\Phi = \frac{a}{2}(x^2 + 2xy - y^2) + wZ$ به دست می‌آید.

۵۵- میدان سرعتی به صورت $\vec{V}(\frac{\text{m}}{\text{s}}) = 2y\hat{i} + \hat{j}$ داده شده است. شیب خط جریان در نقطه (۱, ۲) کدام است؟

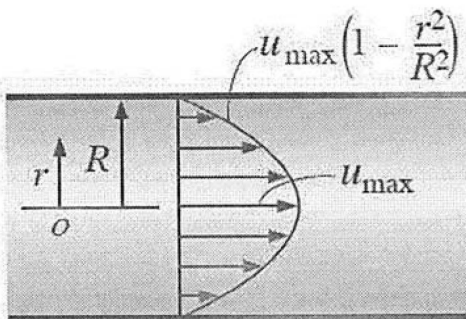
$\frac{1}{4}$ (۲)

$\frac{1}{2}$ (۱)

۲ (۴)

۴ (۳)

۵۶- شکل زیر جریان پوازی در یک لوله را نشان می‌دهد. آهنگ جریان بر حسب سرعت ماکزیمم کدام مورد است؟



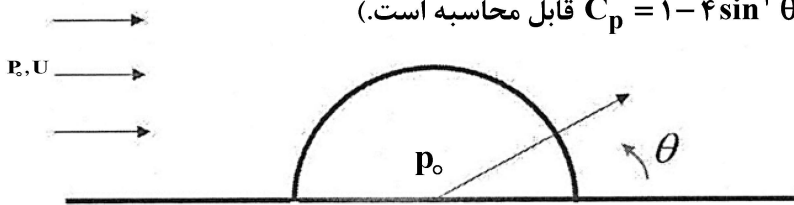
$\frac{1}{3}\pi R^2 u_{\max}$ (۱)

$2\pi R^2 u_{\max}$ (۲)

$\frac{1}{2}\pi R^2 u_{\max}$ (۳)

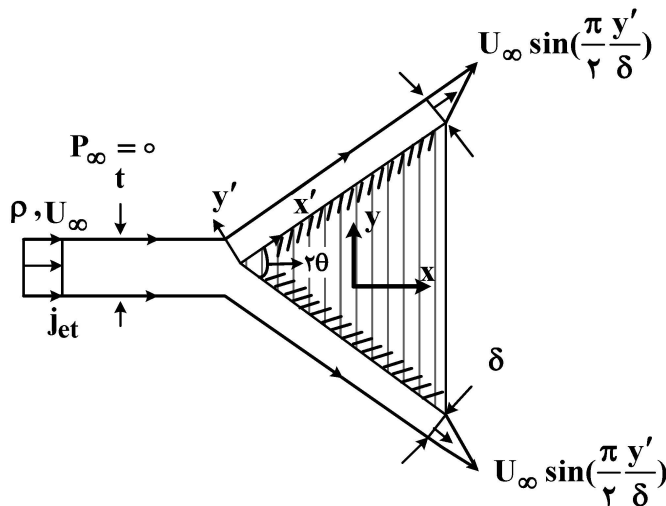
$2\pi R^2 u_{\max}$ (۴)

۵۷- محفظه‌ای به شکل نیم‌استوانه در روی زمین قرار گرفته است. فشار داخل آن p_0 است. بادی با سرعت U از دور دست که فشار p_0 است، می‌وزد. در چه زاویه (θ) اگر سوراخی روی نیم‌سیلندر ایجاد کنیم، هوا به داخل نیم‌سیلندر وارد یا خارج نمی‌شود؟ (جریان هوا بدون لزجت و غیرچرخشی فرض شده‌است و ضریب فشار بر روی سطح استوانه از رابطه $C_p = 1 - 4 \sin^2 \theta$ قابل محاسبه است.)



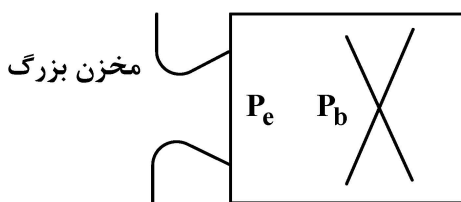
- (۱) ۳۰ و ۱۵۰ درجه
- (۲) ۶۰ و ۱۲۰ درجه
- (۳) ۹۰ درجه
- (۴) ۴۵ و ۱۳۵ درجه

۵۸- جت آب دو بُعدی به گوه با زاویه 2θ برخورد می‌کند. سرعت جت آب U_∞ و ضخامت آن t است. در صورتی که پروفیل سرعت در لایه مرزی تشکیل شده روی گوه با تابع $U_\infty \sin\left(\frac{\pi y'}{\delta}\right)$ تقریب زده شود، کدام مورد، در خصوص ضخامت لایه مرزی δ و نیروی وارده از جت آب به گوه درست است؟ (δ ضخامت لایه مرزی در انتهای گوه است.)



- (۱) ضخامت لایه مرزی $\delta = t \frac{\pi}{2}$ و نیروی وارده برابر $F_x = \rho U_\infty^2 t \left(1 - \frac{\pi}{2} \cos \theta\right)$ است.
- (۲) ضخامت لایه مرزی $\delta = t \frac{\pi}{4}$ و نیروی وارده برابر $F_x = \rho U_\infty^2 t \left(\frac{\pi}{4} \cos \theta - 1\right)$ است.
- (۳) ضخامت لایه مرزی $\delta = t \frac{\pi}{2}$ و نیروی وارده برابر $F_x = \rho U_\infty^2 t \left(\frac{\pi}{2} \cos \theta - 1\right)$ است.
- (۴) ضخامت لایه مرزی $\delta = t \frac{\pi}{4}$ و نیروی وارده برابر $F_x = \rho U_\infty^2 t \left(1 - \frac{\pi}{4} \cos \theta\right)$ است.

۵۹- در جریان تراکم‌پذیر درون یک نازل همگرا - واگرا از یک مخزن بزرگ، فشار سطح خروجی نازل (P_e) نسبت به فشار پایین دست (P_b) چه حالتی می‌تواند داشته باشد؟



- (۱) در هر حالت، برابر
- (۲) بیشتر یا کمتر
- (۳) برابر یا کمتر
- (۴) برابر یا بیشتر

۶۰- داخل میله بلندی با شعاع $1/5$ سانتی متر، حرارت با نرخ $\frac{W}{m^3}$ تولید می شود. سطح این میله

در معرض هوای محیط با دمای $25^\circ C$ و ضریب انتقال حرارت جابه جایی $15 \frac{W}{m^2 K}$ قرار دارد. دمای سطح

میله در شرایط پایا چند درجه سلسیوس است؟

- (۱) ۱۲۵
(۲) ۷۵
(۳) ۵۸
(۴) ۵۰

۶۱- دو پره خیلی بلند با محیط هندسی یکسان را در نظر بگیرید که سطح مقطع یکی از آنها به شکل دایره و مقطع دیگری به شکل مربع است. اگر تمام پارامترهای دیگر مربوط به پره ها و خواص ترموفیزیکی یکسان باشند، در یک فاصله مشخص از محل تماس پره با دیوار پایه، افت دما در کدام پره بیشتر خواهد بود؟

(۱) در هر دو پره برابر خواهد بود.
(۲) در پره با سطح مقطع مربع بیشتر خواهد بود.
(۳) در پره با سطح مقطع دایره ای بیشتر خواهد بود.
(۴) وابسته به شرایط هر کدام می توانند بیشتر باشند.

۶۲- دو گاو صندوق در نظر بگیرید که ضخامت جداره و ضریب هدایت گرمایی صندوق اول دو برابر ضخامت جداره و ضریب هدایت گاو صندوق دوم باشد. (سایر مشخصات بین این دو صندوق یکسان است). در هنگام آتش سوزی استفاده از کدام یک از این دو صندوق می تواند زمان بیشتری از محتویات داخل صندوق حفاظت کند؟

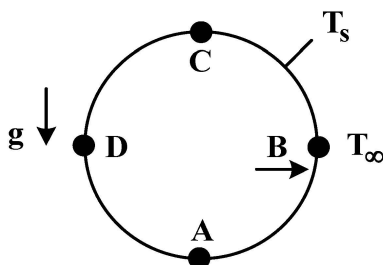
- (۱) صندوق اول
(۲) صندوق دوم
(۳) هر دو صندوق عملکرد مشابهی دارند.
(۴) بستگی به میزان حرارت دارد.

۶۳- یک نمونه آزمایشگاهی از پره توربین (Prototype) با مقیاس هندسی ۱ به ۶ ساخته شده است و با سیال مشابه گازهای داغ ورودی به توربین مورد آزمایش قرار می گیرد. سرعت سیال در آزمایش بر روی نمونه، نصف سرعت جریان واقعی تنظیم می شود. نسبت ضریب انتقال حرارت متوسط بر روی پره واقعی و ضریب

انتقال حرارت متوسط بر روی نمونه آزمایشگاهی $\left(\frac{h_{pr}}{h_{real}} \right)$ ، کدام است؟

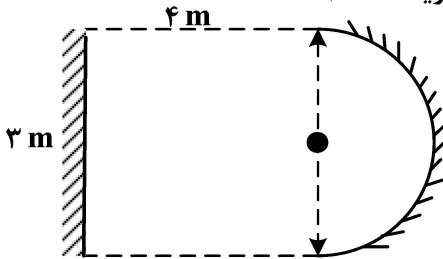
- (۱) $\frac{1}{4}$
(۲) $\frac{1}{6}$
(۳) ۶
(۴) نمی توان به صورت مشخص اظهار نظر کرد.

۶۴- یک لوله افقی طویل با دمای سطح T_s در معرض هوای ساکن با دمای T_∞ ($T_s > T_\infty$) قرار گرفته است. با فرض آرام بودن جریان اطراف لوله، در کدام نقطه از مقطع لوله بیشترین نرخ انتقال حرارت جابه جایی آزاد بین سطح لوله و هوای اطراف رخ می دهد؟



- (۱) A
(۲) B
(۳) C
(۴) D

۶۵- نیم استوانه‌ای به قطر ۳ m مطابق شکل به اندازه ۴ m از صفحه عمودی به طول ۳ m فاصله دارد. ضریب شکل نیم استوانه به محیط هوا کدام است؟ (عمق استوانه و صفحه زیاد است).



$$1 - \frac{2}{\pi} \quad (1)$$

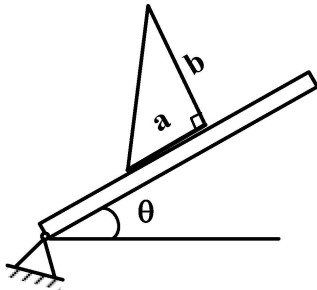
$$\frac{4}{3\pi} \quad (3)$$

$$\frac{3}{\pi} \quad (2)$$

$$\frac{2}{5\pi} \quad (4)$$

جامدات (استاتیک، مقاومت مصالح، طراحی اجزا):

۶۶- بلوک یکنواخت به شکل مثلث قائم‌الزاویه و به جرم m روی سطح شیب‌دار با ضریب اصطکاک ایستایی μ و با زاویه شیب قابل تنظیم θ قرار دارد. اگر زاویه شیب را به تدریج از صفر افزایش دهیم، شرط لغزش بلوک قبل از واژگونی کدام است؟



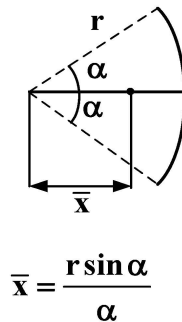
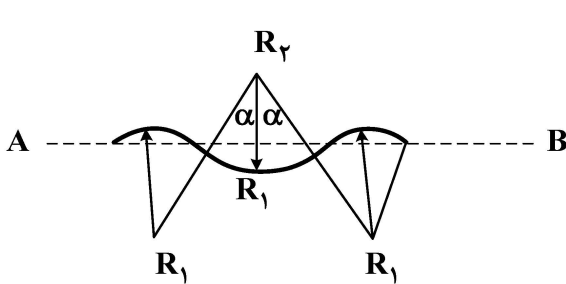
$$\frac{2a}{b} > \mu \quad (1)$$

$$\theta \leq \text{Arctan} \left(\frac{2a}{b} \right) \text{ و } \frac{2a}{b} > \mu \quad (2)$$

$$\frac{a}{b} > \mu \quad (3)$$

$$\theta \leq \text{Arctan} \left(\frac{a}{b} \right) \text{ و } \frac{a}{b} > \mu \quad (4)$$

۶۷- میله نازک خمیده از سه بخش قوسی به شعاع‌های R_1 ، R_2 و R_3 تشکیل شده است، که در نقاط اتصال برهم مماس هستند. زاویه مرکزی هر یک از قوس‌ها 2α است. نسبت R_2 به R_1 چقدر باشد، تا مرکز خط میله روی خط AB قرار گیرد؟



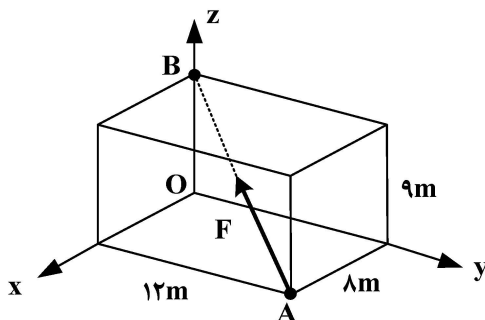
$$\frac{\sqrt{2}}{2} \left(\cos \alpha - \frac{\sin \alpha}{\alpha} \right) \quad (1)$$

$$\frac{\sqrt{3}}{2} \left(\cos \alpha - \frac{\sin \alpha}{\alpha} \right) \quad (2)$$

$$\frac{\sqrt{2}}{2} \quad (3)$$

$$\frac{\sqrt{3}}{2} \quad (4)$$

۶۸- نیروی F با بزرگی ۱۷۰ نیوتن به نقطه‌ای از جسم مطابق شکل اعمال می‌شود. بردار گشتاور این نیرو حول نقطه O (برحسب نیوتن متر) کدام است؟



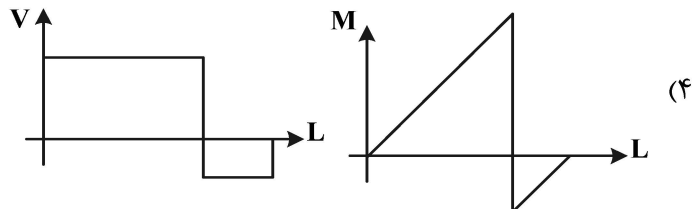
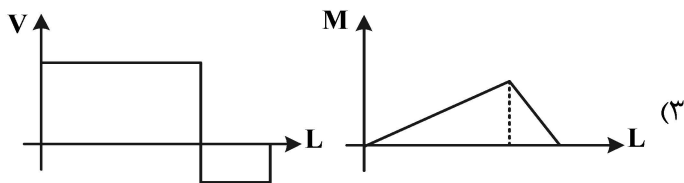
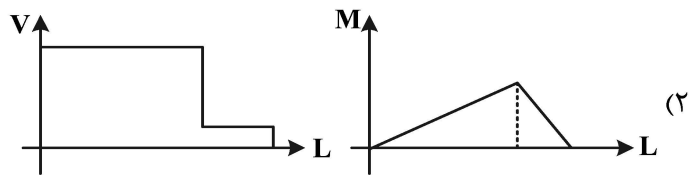
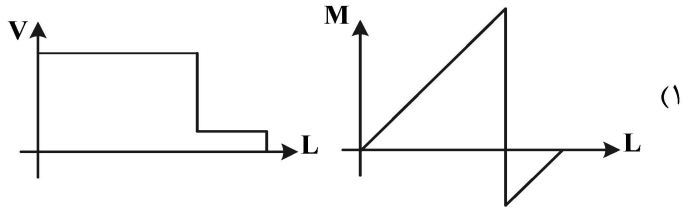
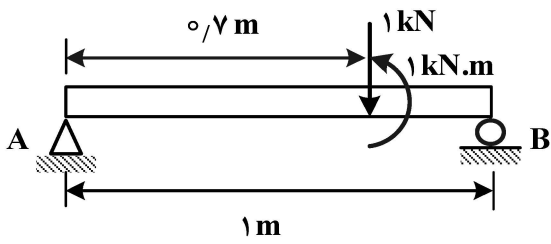
$$-108 \mathbf{i} + 72 \mathbf{j} \quad (1)$$

$$54 \mathbf{i} - 36 \mathbf{j} \quad (2)$$

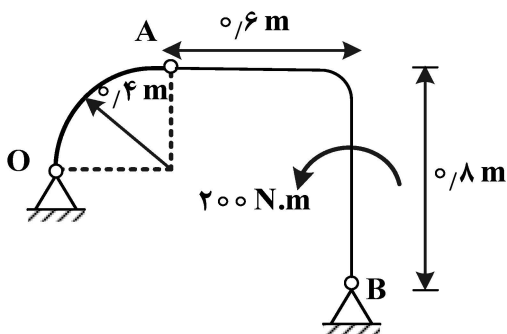
$$-54 \mathbf{i} + 36 \mathbf{j} \quad (3)$$

$$108 \mathbf{i} - 72 \mathbf{j} \quad (4)$$

۶۹- نمودار نیروی برشی و ممان خمشی تیر شکل زیر، کدام است؟



۷۰- در قاب نشان داده شده، نیروی پین B تقریباً چند نیوتن است؟ (عضو OA دو نیرویی است.)



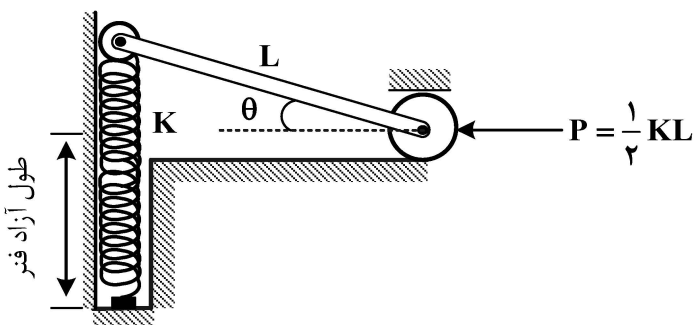
(۱) ۱۰۰

(۲) ۱۴۳

(۳) ۲۰۰

(۴) ۲۰۲

۷۱- در سیستم نشان داده شده، زاویه θ برای برقراری تعادل چند درجه است؟ (از اصطکاک صرف نظر شود.)



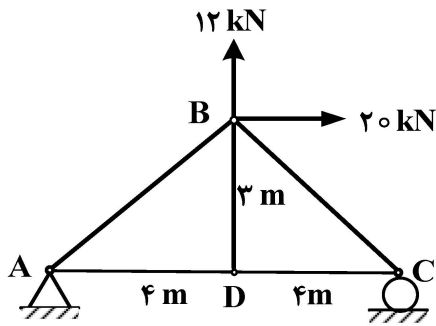
(۱) ۳۰

(۲) ۳۷

(۳) ۴۵

(۴) ۶۰

۷۲- در خرپای زیر، نیروی عضو AD، چند کیلو نیوتن است؟



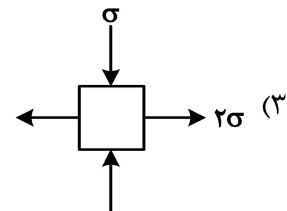
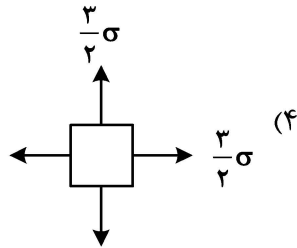
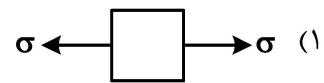
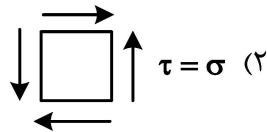
(۱) ۱/۵

(۲) ۲

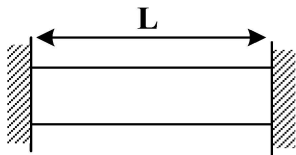
(۳) ۲/۵

(۴) ۳

۷۳- کدام المان، بیشترین تنش برشی را دارد؟ ($\sigma > 0$)



۷۴- میله یکنواخت با مشخصات E ، A ، ν و α بین دو دیوار صلب بدون اصطکاک مهار شده است. کرنش حجمی



میله به ازای افزایش دمای ΔT کدام است؟

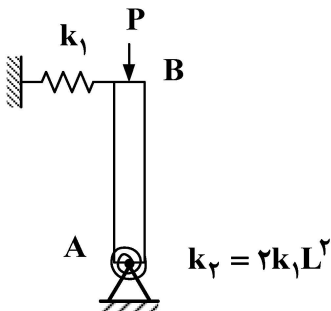
(۱) $2\alpha\Delta T(1+\nu)$

(۲) $\alpha\Delta T(1-\nu)$

(۳) $2\alpha\Delta T(1-\nu)$

(۴) $\alpha\Delta T(1+\nu)$

۷۵- بار بحرانی P در مجموعه زیر، چند برابر k_1L است؟ (میله AB صلب است.)



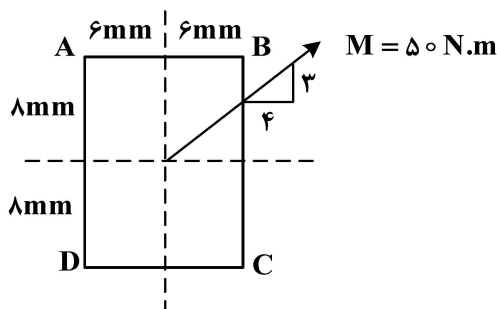
(۱) ۱/۵

(۲) ۲

(۳) ۳

(۴) ۵

۷۶- به یک تیر با مقطع مستطیل، گشتاور خمشی M مطابق شکل زیر وارد می شود. تنش در نقطه B چند



مگاپاسکال است؟

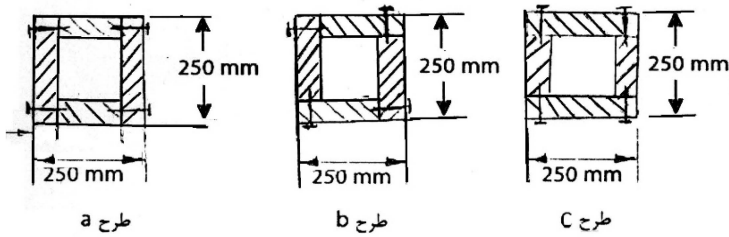
(۱) ۶۸/۵

(۲) ۴۳

(۳) ۶۸/۵

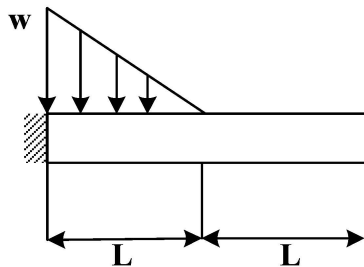
(۴) صفر

۷۷- اگر از اتصال چهار تخته الوار با ضخامت 50 mm یک تیر توخالی با مقطع مربع به ضلع 250 mm ساخته شود، در کدام طرح(ها)، تعداد میخ کمتری نیاز است؟



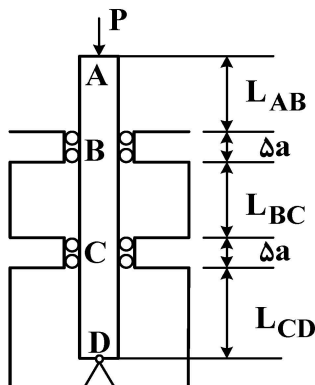
- a (۱)
- b (۲)
- c (۳)
- c و a (۴)

۷۸- خیز انتهای آزاد تیر، چند برابر $\frac{wL^4}{EI}$ است؟



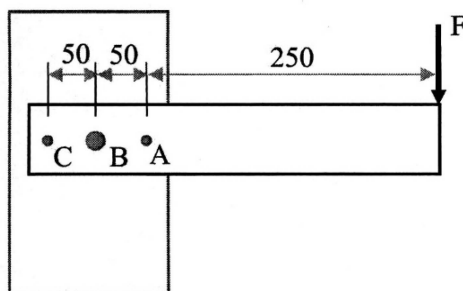
- $\frac{1}{30}$ (۱)
- $\frac{3}{40}$ (۲)
- $\frac{5}{384}$ (۳)
- $\frac{13}{240}$ (۴)

۷۹- یک ستون با مقطع مربع به طول ضلع a تحت بار P در نقطه A قرار دارد. از خیز و شیب تیر در نقاط B و C با استفاده از تکیه‌گاه مناسب جلوگیری می‌شود. اتصال در D لولا است. حداکثر طول تیر برای بیشترین بار بحرانی کمانش تقریباً چند برابر a است؟ ($L_{AB} = 49a$)



- ۳۸۵ (۱)
- ۳۹۵ (۲)
- ۱۴۷ (۳)
- ۱۰۶ (۴)

۸۰- تیری مطابق شکل توسط سه پین به ستون متصل شده است و بار عرضی $F = 9 \text{ kN}$ به انتهای آن وارد می‌شود. قطر پین‌های A و C برابر 10 mm و قطر پین B برابر 20 mm است. اگر استحکام تسلیم برشی ماده پین 480 MPa باشد، ضریب اطمینان اتصال در برابر برش کدام است؟ (ابعاد شکل بر حسب میلی‌متر است.)



- $\frac{\pi}{2}$ (۱)
- $\frac{8\pi}{19}$ (۲)
- $\frac{8\pi}{17}$ (۳)
- $\frac{4\pi}{7}$ (۴)

۸۱- در صورتی که ارتفاع سردنده در پینیون بلندتر از حد استاندارد و در چرخ دنده کوتاه تر از حد استاندارد باشد، در مورد زیر برش (under cutting) کدام مورد درست است؟

(۱) کاهش می یابد. (۲) افزایش می یابد.

(۳) همانند چرخ دنده استاندارد است. (۴) بستگی به نوع چرخ دنده دارد.

۸۲- برای ماده نرم با استحکام تسلیم 40 MPa در کشش و 60 MPa در فشار، استحکام تسلیم برشی طبق معیار کولمب، چند MPa است؟

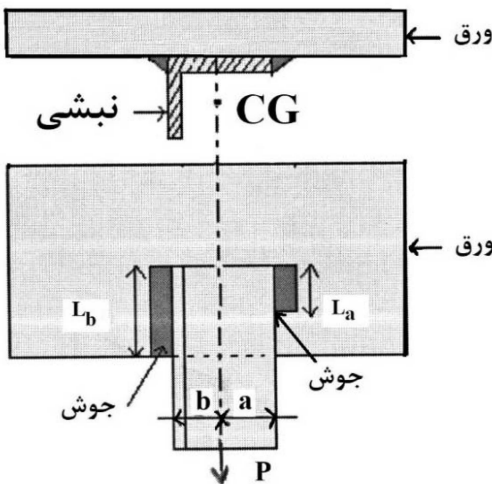
(۱) ۵۰

(۲) ۳۰

(۳) ۲۴

(۴) ۳۶

۸۳- اتصال جوشی نامتقارن زیر تحت بار محوری P قرار دارد به نحوی که فقط تنش برشی اولیه در جوش ایجاد می شود. طول جوش L_a چند برابر طول کل جوش $L = L_a + L_b$ است؟ (پای جوش در سرتاسر طول آن ثابت است)



(۱) $\frac{b}{a-b}$

(۲) $\frac{a}{a-b}$

(۳) $\frac{a}{a+b}$

(۴) $\frac{b}{a+b}$

۸۴- تیر زیر با مقطع دایره توپر به قطر 10 cm ، در حال چرخش حول محور قرار دارد. برای ماده تیر $S_{ut} = 700 \text{ MPa}$ و $S_e = 128 \text{ MPa}$ است. حداکثر بار مجاز F با ضریب اطمینان ۲، بر طبق معیار گودمن

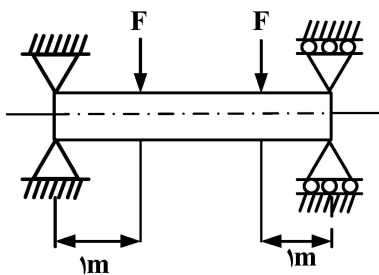
چند کیلو نیوتن است؟

(۱) 4π

(۲) 3π

(۳) 2π

(۴) $\frac{4\pi}{3}$



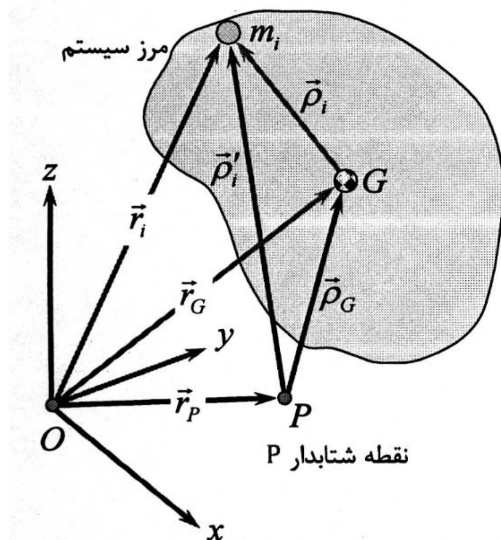
۸۵- در صورتی که سرعت چرخش یک یاتاقان غلنتی ساچمه کروی (بلبرینگ) نصف و بار آن دو برابر شود، عمر یاتاقان چند برابر می شود؟

(۱) هشت (۲) چهار

(۳) یک چهارم (۴) یک هشتم

راهنمایی: متقاضیان رشته «مهندسی پزشکی» به جای دروس «دینامیک و ارتعاشات (دینامیک، ارتعاشات، دینامیک ماشین، کنترل) سؤال های ۸۶ تا ۱۰۵ در صفحه های ۲۱ تا ۲۶ و ساخت و تولید (ماشین ابزار، قالب پرس، علم مواد، تولید مخصوص، هیدرولیک و نیوماتیک)» سؤال های ۱۰۶ تا ۱۲۵ در صفحه های ۲۶ تا ۲۹ می توانند به دروس «مبانی بیومکانیک (۱ و ۲) سؤال های ۱۲۶ تا ۱۴۵ در صفحات ۲۹ تا ۳۱ و دروس پایه پزشکی (فیزیولوژی، آناتومی و فیزیک پزشکی)» سؤال های ۱۴۶ تا ۱۶۵ در صفحه های ۳۱ تا ۳۲ پاسخ دهند.

دینامیک و ارتعاشات (دینامیک، ارتعاشات، دینامیک ماشین، کنترل):



۸۶- با توجه به شکل زیر، کدام رابطه نادرست است؟

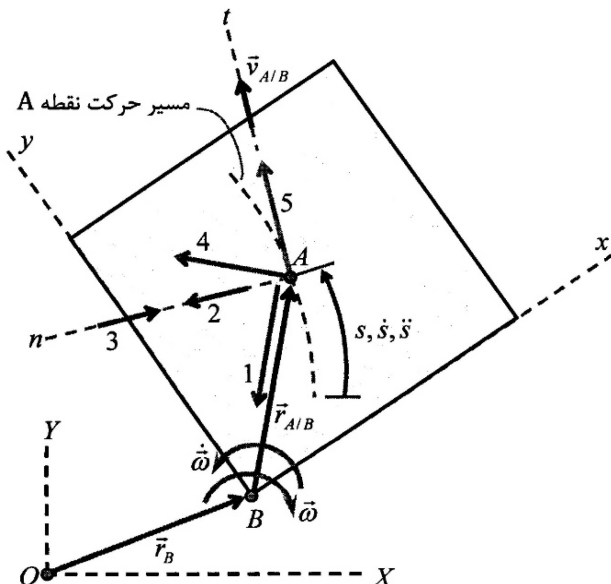
$$\vec{M}_p = (\dot{\vec{H}}_p)_{rel} + \vec{\rho}_G \times m \ddot{\vec{r}}_G \quad (1)$$

$$\vec{H}_p + \vec{H}_G + \rho_G \times m \dot{\vec{r}}_G \quad (2)$$

$$(\dot{\vec{H}}_p)_{rel} = \vec{\rho}_G \times m \dot{\vec{r}}_G + \vec{H}_G \quad (3)$$

$$\sum_i \vec{\rho}_i \times m_i \dot{\vec{r}}_i = \sum_i \vec{\rho}_i \times m_i \ddot{\vec{r}}_i \quad (4)$$

۸۷- شکل زیر، مسیر حرکت ذره A را درون صفحه ای نشان می دهد که خود صفحه دارای سرعت زاویه ای $\vec{\omega}$ و شتاب زاویه ای $\vec{\dot{\omega}}$ است. بردارهای ۱ تا ۵، هر یک بیانگر یکی از مؤلفه های شتاب این ذره مادی هستند. کدام گزینه تمامی بردارها را به درستی نام گذاری کرده است؟



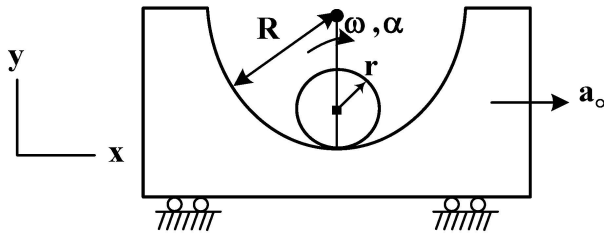
$$1 \rightarrow (a_{A/B})_n ; 4 \rightarrow (a_{A/B})_t ; 5 \rightarrow \dot{\vec{\omega}} \times \vec{r}_{A/B} \quad (1)$$

$$3 \rightarrow \dot{\vec{\omega}} \times \vec{v}_{A/B} ; 4 \rightarrow \vec{\omega} \times \vec{r}_{A/B} ; 5 \rightarrow (a_{A/B})_t \quad (2)$$

$$2 \rightarrow \vec{\omega} \times (\vec{\omega} \times \vec{r}_{A/B}) ; 3 \rightarrow \dot{\vec{\omega}} \times \vec{v}_{A/B} ; 5 \rightarrow (a_{A/B})_t \quad (3)$$

$$1 \rightarrow \vec{\omega} \times (\vec{\omega} \times \vec{r}_{A/B}) ; 2 \rightarrow \dot{\vec{\omega}} \times \vec{v}_{A/B} ; 4 \rightarrow \vec{\omega} \times \vec{r}_{A/B} \quad (4)$$

۸۸- استوانه‌ای به شعاع r داخل نیم‌استوانه‌ای به شعاع R بدون لغزش می‌غلتد. در لحظه نشان داده شده سرعت زاویه‌ای استوانه ω و شتاب زاویه‌ای آن α است. شتاب اریبه به سمت راست a_0 است. شتاب مرکز استوانه در این لحظه کدام است؟



$$(1) (a_0 - r\alpha)\bar{i} - \frac{r^2}{R-r}\omega^2\bar{j}$$

$$(2) (a_0 + r\alpha)\bar{i} + (R-r)\omega^2\bar{j}$$

$$(3) (a_0 + r\alpha)\bar{i} + \frac{r^2}{R-r}\omega^2\bar{j}$$

$$(4) (a_0 - r\alpha)\bar{i} + (R-r)\omega^2\bar{j}$$

۸۹- نیروی $\vec{F} = A\vec{i} + B\vec{j}$ بر نقطه مادی به جرم m وارد می‌شود، که در آن A و B ثابت و t زمان است. در لحظه $t = 0$ سرعت جرم برابر صفر است. کار انجام شده توسط نیرو در لحظه $t = T$ ثانیه، چند برابر $\frac{T^4}{m}(A^2 + B^2)$ است؟

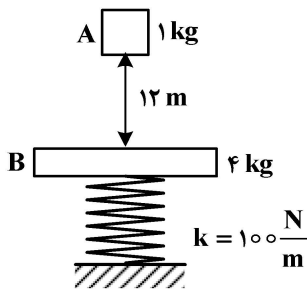
$$(1) \frac{1}{4}$$

$$(2) \frac{1}{8}$$

$$(3) 1$$

$$(4) \frac{1}{2}$$

۹۰- جرم ۱ کیلوگرمی از ارتفاع ۱۲ متری روی یک صفحه می‌افتد به طوری که در برخورد به هم می‌چسبند. صفحه 4 kg قبل برخورد در حالت تعادل روی فنری با سختی $k = 100 \frac{\text{N}}{\text{m}}$ قرار دارد. حداکثر فشردگی فنر نسبت به طول آزاد آن بعد برخورد چند متر خواهد بود؟ (شتاب گرانش را $g = 10 \frac{\text{m}}{\text{s}^2}$ فرض کنید).



آن بعد برخورد چند متر خواهد بود؟ (شتاب گرانش را $g = 10 \frac{\text{m}}{\text{s}^2}$ فرض کنید).

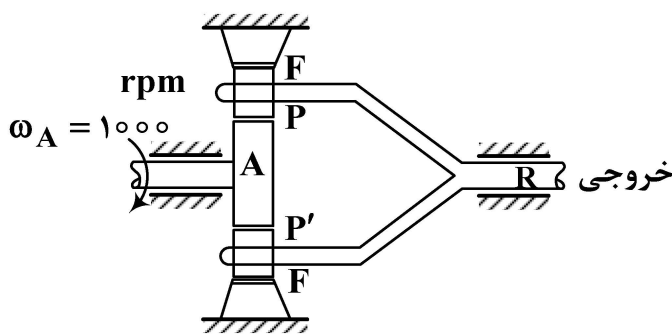
$$(1) 0.6$$

$$(2) 0.8$$

$$(3) 1.2$$

$$(4) 1.6$$

۹۱- در سری چرخنده زیر، گشتاور خروجی چند نیوتن متر است؟ ($T_A = 10 \text{ N.m}$, $N_P = 10$, $N_A = 40$)



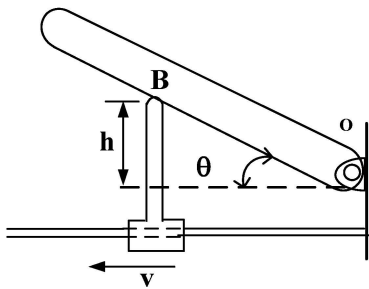
$$(1) 15$$

$$(2) 20$$

$$(3) 25$$

$$(4) 30$$

۹۲- در مکانیزم زیر چنانچه جسم لغزنده با سرعت $v = 1 \frac{m}{s}$ در حال حرکت به چپ باشد، مقدار سرعت دورانی بازو، $\dot{\theta}$ ، کدام خواهد بود؟ (h بر حسب متر است).



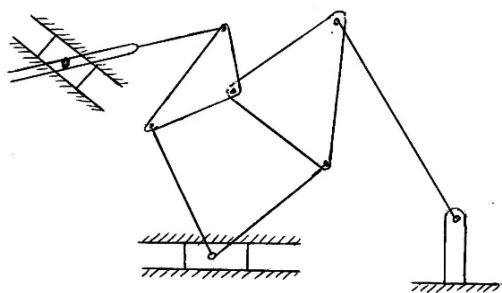
(۱) $\frac{\sin^2 \theta}{h}$

(۲) $\frac{\cos^2 \theta}{h}$

(۳) $\frac{\sin \theta \cos \theta}{h}$

(۴) $\frac{\cos \theta}{h \sin \theta}$

۹۳- حرکت مکانیزم زیر، تابع چند ورودی مستقل است؟



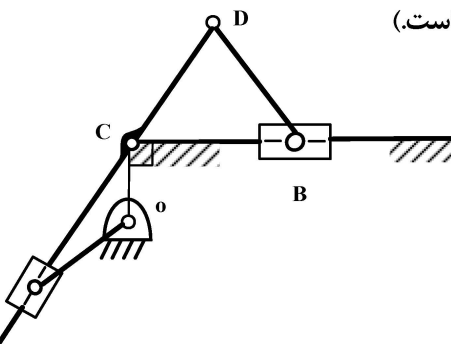
(۱) ۱

(۲) ۲

(۳) ۳

(۴) ۴

۹۴- برای اینکه نسبت زمان رفت به برگشت لغزنده B در مکانیزم برگشت سریع زیر برابر ۳ باشد، فاصله OC کدام است؟ (طول میله OA برابر ۸ cm و بزرگتر از فاصله بین دو لولای O و C است).



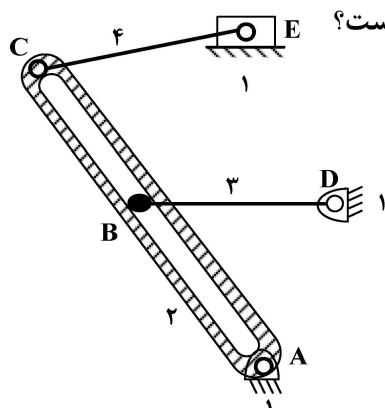
(۱) ۲

(۲) $2\sqrt{2}$

(۳) ۴

(۴) $4\sqrt{2}$

۹۵- در مکانیزم صفحه‌ای زیر به انتهای عضو ۳ در نقطه B یک پین کوچک متصل شده که درون شیار عضو ۲ حرکت می‌کند. محل مرکز آنی دوران بین عضوهای ۲ و ۳ کدام است؟



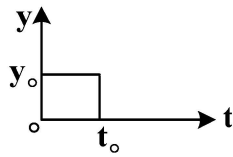
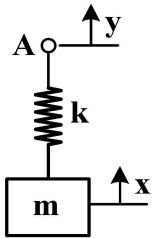
(۱) تلاقی خطی که از AD عبور می‌کند و با خط عمود بر AC که از نقطه B می‌گذرد.

(۲) مکانیزم دارای ۲ درجه آزادی است و نمی‌توان مرکز آنی دوران را تعیین کرد.

(۳) راستای عمود بر AC در بی‌نهایت است.

(۴) در نقطه B است.

۹۶- سیستم جرم و فنر در حال تعادل است. اگر نقطه A را به ناگهان به اندازه y_0 کشیده و سپس در زمان t_0 به ناگهان به جای قبل برگردانیم، پاسخ $x(t)$ برای $t > t_0$ ، کدام است؟



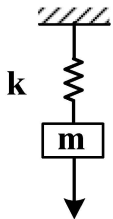
$$(1) y_0 (1 - \cos \omega_n t_0) \cos \omega_n t + y_0 \sin \omega_n t_0 \sin \omega_n t$$

$$(2) y_0 \cos \omega_n (t - t_0) - y_0 \cos \omega_n t$$

$$(3) y_0 \cos \sqrt{\frac{k}{m}} t$$

(۴) صفر

۹۷- در سیستم جرم - فنر یک درجه آزادی خطی زیر هنگامی که فرکانس نیروی تحریک به فرکانس طبیعی نزدیک می‌شود، دوره تناوب ضربان در پاسخ سیستم کدام است؟



$$F(t) = F_0 \cos \omega t$$

$$(1) \frac{2\pi}{|\omega_n - \omega|}$$

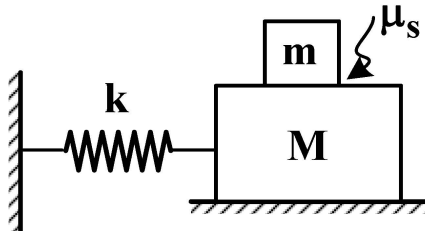
$$(2) \frac{\pi}{|\omega_n - \omega|}$$

$$(3) \frac{2\pi}{\omega_n + \omega}$$

$$(4) \frac{2\pi}{\omega}$$

۹۸- جرم سیستم زیر به اندازه X_0 از وضعیت تعادل جابه‌جا شده و از حالت سکون رها می‌شود. با صرف نظر از اصطکاک با زمین، حداقل ضریب اصطکاک μ_s بین جرم‌ها چند برابر $\frac{\omega_n^2 X_0}{g}$ باشد، تا در حین نوسان جرم

M، جرم m روی آن نلغزد؟



$$(1) \frac{\sqrt{2}}{2}$$

$$(2) \frac{\sqrt{2}}{3}$$

$$(3) 1$$

$$(4) \frac{2}{3}$$

۹۹- یک موتور الکتریکی با سرعت ۱۲۰۰ rpm روی پایه لاستیکی با میرایی ناچیز قرار دارد. روتور نابالانسی استاتیکی داشته و نیروی منتقل شده به پایه $\frac{1}{4}$ نیروی گریز از مرکز است. فرکانس تحریک چند برابر فرکانس

طبیعی سیستم و فرکانس طبیعی چند رادیان بر ثانیه است؟

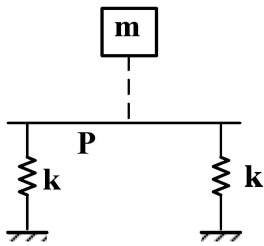
$$(2) 8 \text{ و } 5\pi$$

$$(1) 5 \text{ و } 8\pi$$

$$(4) \sqrt{8} \text{ و } 5\pi\sqrt{8}$$

$$(3) \sqrt{5} \text{ و } 8\pi\sqrt{5}$$

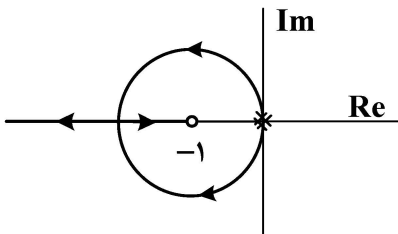
۱۰۰- وزنه‌ای به جرم ۱۰ کیلوگرم از ارتفاع ۳ متری بر وسط صفحه صلب بدون وزن P رها می‌شود. صفحه طبق شکل روی دو فنر هر یک با ضریب سختی $\frac{25}{m} \text{ N}$ قرار دارد. حداکثر نیروی انتقال یافته به تکیه‌گاه، چند نیوتن است؟ ($g = 10 \frac{m}{s^2}$)



- (۱) ۱۰۰
- (۲) ۱۵۰
- (۳) ۲۰۰
- (۴) ۳۰۰

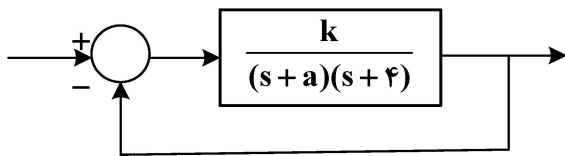
۱۰۱- مکان هندسی ریشه‌های یک سیستم مدار بسته با کنترل کننده تناسبی با ضریب بهره k به صورت زیر است.

معادله مشخصه سیستم کدام است؟



- (۱) $s^2 + ks + 1 = 0$
- (۲) $s^2 + ks + k = 0$
- (۳) $s^2 + 2ks + k = 0$
- (۴) $s^2 + 0.5ks + 2 = 0$

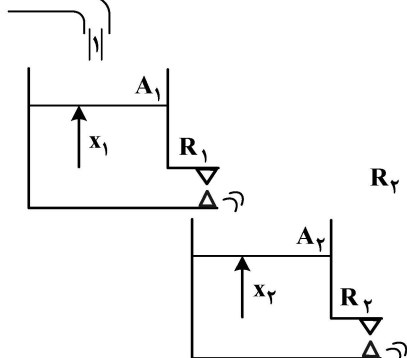
۱۰۲- مقادیر a و k برای این که خطای ماندگار سیستم مدار بسته زیر تحت ورودی پله واحد برابر صفر و حاشیه فاز برابر ۴۵ درجه باشد، به ترتیب کدامند؟



- (۱) صفر و $16\sqrt{2}$
- (۲) صفر و $8\sqrt{2}$
- (۳) ۱ و $8\sqrt{2}$
- (۴) ۱ و $16\sqrt{2}$

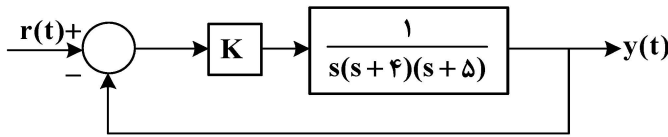
۱۰۳- در سیستم دو مخزن زیر که ورودی دبی به ظرف اول $u = 1$ است. کدام مورد درباره ارتفاع ظرف دوم در حالت ماندگار (steady state) درست است؟ (یعنی اینکه مقدار نهایی ارتفاع ظرف دوم چقدر می‌شود؟)

A_1 و A_2 سطح مقطع دو مخزن، R_1 و R_2 مقاومت شیرهای خطی خروجی) پله ای واحد $u = 1$



- (۱) x_2 نهایی به R_1, R_2, A_1 و A_2 بستگی دارد.
- (۲) x_2 نهایی فقط به R_1 و R_2 بستگی دارد.
- (۳) x_2 نهایی فقط به A_1 و A_2 بستگی دارد.
- (۴) x_2 نهایی فقط به R_2 بستگی دارد.

۱۰۴- در سیستم مدار بسته زیر که در آن کنترل کننده از نوع خطی تناسبی است، یکی از قطب‌های مدار بسته در ۳- قرار دارد. در مورد رفتار خروجی $y(t)$ به‌ازای ورودی مبنای $r(t)$ پله‌ای واحد کدام گزینه درست است؟



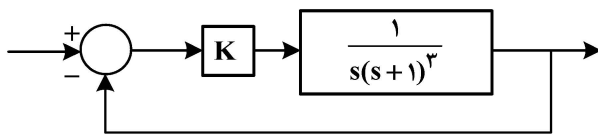
(۱) رفتار سیستم به‌صورت نمایی با تابع $e^{-0.35t}$ به سمت واحد میل می‌کند.

(۲) سیستم ناپایدار می‌شود و رفتار سیستم به سمت ∞ میل می‌کند.

(۳) رفتار سیستم به‌صورت نوسانی میرا به سمت واحد میل می‌کند.

(۴) رفتار سیستم با تابع e^{-3t} به سمت واحد میل می‌کند.

۱۰۵- در سیستم زیر، بهره کنترل کننده K تقریباً چقدر باشد تا حد بهره (gain margin) مساوی ۶ db (۶ دسی بل) شود؟



(۱) ۲/۴

(۲) ۴/۲

(۳) ۱/۹

(۴) ۴/۹

ساخت و تولید (ماشین‌ابزار، قالب پرس، علم مواد، تولید مخصوص، هیدرولیک و نیوماتیک):

۱۰۶- برای افزایش مقاومت فلزات از چه روشی می‌توان استفاده کرد؟

(۱) تبلور مجدد - بازیابی

(۲) کار سرد - تبلور مجدد

(۳) کار سرد - استحکام‌دهی محلول جامد

(۴) استحکام‌دهی محلول جامد - تبلور مجدد

۱۰۷- به کدام دلیل شکل‌پذیری فلزاتی مانند منیزیم و روی، از فلزاتی مانند آهن، مس و نیکل کمتر است؟

(۱) مدول الاستیک کمتر در فلزات با دمای ذوب پایین‌تر

(۲) سرعت شکست کمتر در فلزات با ساختار بلوری مکعبی

(۳) فاصله بین‌اتمی (پارامتر شبکه) کمتر در فلزات با شکل‌پذیری کمتر

(۴) سیستم‌های لغزش کمتر در ساختار بلوری هگزاگونال

۱۰۸- افزایش تنش سیلان (تغییر فرم پلاستیک) یک آلیاژ فلزی، تابع کدام عوامل است؟

(۱) افزایش نرخ کرنش - کارسختی - کاهش دما - افزایش اندازه دانه‌ها

(۲) کارسختی - افزایش نرخ کرنش - کاهش دما - کاهش اندازه دانه‌ها

(۳) کارسختی - کاهش دما - کاهش شکل‌دهی - افزایش اندازه دانه‌ها

(۴) کارسختی - کاهش اندازه دانه‌ها - کاهش نرخ کرنش - کاهش دما

۱۰۹- دو استوانه آلومینیومی هم‌اندازه یکی با اندازه دانه اولیه کوچکتر و دیگری با اندازه دانه اولیه بزرگتر آماده‌سازی شده‌اند. هر دو تحت ۵۰ درصد تغییر شکل قرار گرفته و به منظور تبلور مجدد در دما و زمان یکسان داخل کوره

قرار داده می‌شوند. اندازه دانه نهایی دو استوانه را چگونه می‌توان با یکدیگر مقایسه کرد؟

(۱) نمونه‌ای که اندازه دانه اولیه کوچکتری دارد در نهایت اندازه دانه کوچکتر خواهد داشت.

(۲) نمونه‌ای که اندازه دانه اولیه بزرگتری دارد در نهایت اندازه دانه کوچکتر خواهد داشت.

(۳) اندازه دانه نهایی برای هر دو نمونه برابر خواهد بود.

(۴) اندازه دانه نهایی مستقل از اندازه دانه اولیه است.

۱۱۰- کدام مورد درست است؟

- (۱) در عملیات ماشین کاری فلزات سخت، براده با لبه انباشته ایجاد می شود.
 - (۲) در عملیات ماشین کاری فلزات خوش تراش، براده با لبه انباشته ایجاد می شود.
 - (۳) در فرایند سنگ زنی با افزایش میزان سختی ذرات چرخ سنگ، درجه سختی آن افزایش می یابد.
 - (۴) برای فرزکاری قطعات سخت، حتی الامکان از تیغ فرز انگشتی با تعداد لبه بیشتر استفاده می شود.
- ۱۱۱- در عملیات سنگ زنی در چه موردی از سنگ با تخلخل بیشتر استفاده می شود؟

- (۱) مواد نرم
- (۲) مواد سخت
- (۳) پرداخت کاری (حجم باربرداری کم)
- (۴) خشن کاری (حجم باربرداری زیاد)

۱۱۲- کدام مورد، در خصوص فرزکاری با حرکت همراه و معکوس درست است؟

- (۱) فرزکاری معکوس بهتر است، زیرا صافی سطح بهتری ایجاد می کند.
- (۲) فرزکاری همراه بهتر است، زیرا لقی میز گرفته می شود.
- (۳) فرزکاری همراه در ماشین کاری قطعات نازک ارجحیت دارد.
- (۴) فرزکاری معکوس در ماشین کاری قطعات نازک ارجحیت دارد.

۱۱۳- کدام یک از گزاره های زیر در سوراخ کاری با مته، درست است؟

- (۱) زاویه رأس مته برای مواد سخت بزرگتر از مواد نرم است.
- (۲) زاویه رأس مته برای مواد نرم بزرگتر از مواد سخت است.
- (۳) زاویه رأس مته به قطر و طول مته وابسته است.
- (۴) زاویه رأس مته به جنس مته وابسته است.

۱۱۴- در قالب های برش، کدام عامل باعث افزایش پلیسه در سطح برش ورق می شود؟

- (۱) کم بودن کلیرانس قالب و زاویه دار کردن سنبه
- (۲) کم بودن کلیرانس قالب و ترد بودن جنس ورق
- (۳) زیاد بودن کلیرانس قالب و افزایش عمق نفوذ ورق
- (۴) زیاد بودن کلیرانس قالب و کند شدن سنبه و ماتریس

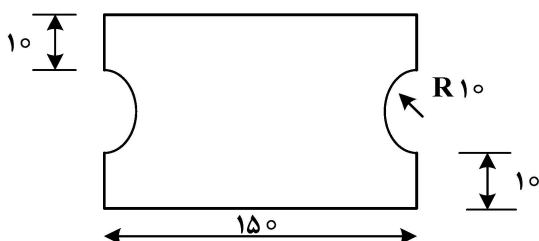
۱۱۵- در یک قالب مرحله ای، کدام سنبه زودتر با ورق تماس پیدا می کند؟

- (۱) سوراخ کاری
- (۲) فرار
- (۳) دوره بری
- (۴) فرم دهی

۱۱۶- در قالب های کشش عمیق، عیب چروکیدگی (Wrinkling) به کدام پارامتر بستگی ندارد؟

- (۱) سرعت کشش
- (۲) ضخامت ورق
- (۳) لقی قالب
- (۴) اندازه شعاع ماتریس

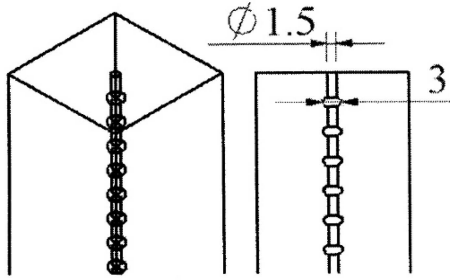
۱۱۷- برای برش ورقی به ضخامت ۲ mm و استحکام برشی $\frac{kg}{mm^2}$ ۱۲، طبق نقشه زیر نیروی برشی خالص چند



کیلوگرم می شود؟

- (۱) ۱۲۳۳/۶
- (۲) ۱۷۱۳/۶
- (۳) ۲۶۷۳/۶
- (۴) ۸۹۱۳/۶

۱۱۸- کدام یک از فرایندهای تولید مخصوص، برای ایجاد سوراخ بلند به طول ۱۵۰ میلی متر و قطر ۱/۵ میلی متر در قطعه شکل زیر مناسب است؟ (در برخی نواحی ماشین کاری قطر سوراخ باید به ۳ میلی متر افزایش یابد.)



- (۱) الکتروشیمیایی
- (۲) اشعه الکترونی
- (۳) لیزر
- (۴) پلاسما

۱۱۹- کدام ویژگی برای ابزار در ماشین کاری تخلیه الکتریکی مناسب نیست؟

- (۱) استحکام بالا
- (۲) دمای ذوب بالا
- (۳) رسانایی حرارتی پایین
- (۴) مقاومت الکتریکی پایین

۱۲۰- در فرایند ماشین کاری با جت مواد ساینده، با افزایش فاصله نازل تا قطعه کار، کدام تغییر ایجاد می شود؟

- (۱) کاهش عرض برش
- (۲) افزایش عرض برش
- (۳) نرخ براده برداری و عرض برش کمتر می شود.
- (۴) نرخ براده برداری ابتدا کاهش و سپس افزایش می یابد.

۱۲۱- در کدام فرایند ماشین کاری، لایه متأثر از حرارت (HAZ) ایجاد می شود؟

- (۱) جت آب همراه مواد ساینده
- (۲) اولتراسونیک
- (۳) اشعه لیزر
- (۴) جت آب

۱۲۲- از کدام شیر(ها) برای کنترل نیروی وارد بر درب کنسروها، در موقع برجسب زدن و تاریخ زدن استفاده می شود؟

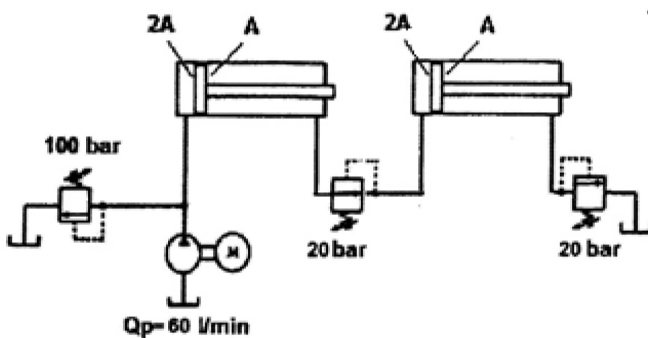
- (۱) شیر کنترل سرعت دوراها
- (۲) شیر کنترل سرعت سه راهه
- (۳) شیر کنترل سرعت دوراها و شیر تابع فشار
- (۴) شیر تابع فشار

۱۲۳- یک بالابرهیدرولیکی به صورت وابسته به بار طراحی شده است. با فرض وزن یکسان جسم، نسبت سرعت بالابردن به سرعت پایین آوردن آن، کدام است؟

- (۱) یک
- (۲) بیشتر از یک
- (۳) دو
- (۴) کمتر از یک

۱۲۴- در مدار شکل زیر، دو سیلندر یکسان که نسبت سطح مقطع دو طرف پیستون ۲ به یک است مورد استفاده

قرار گرفته اند. دبی پمپ ۶۰ لیتر بر دقیقه و فشارهای تنظیم شیرهای کنترل فشار نیز در شکل مشخص شده اند. توان مصرفی پمپ چند کیلووات است؟



- (۱) ۰/۵
- (۲) ۱
- (۳) ۲
- (۴) ۴

۱۲۵- در هر سیکل کاری یک پرس هیدرولیک، حداکثر دبی مصرفی ۱۰ لیتر بر دقیقه و دبی متوسط مصرفی ۳ لیتر بر دقیقه است. حداقل فشار مورد نیاز پرس ۸۰ بار و شیر اطمینان روی ۱۲۰ بار تنظیم شده است. مدار تغذیه پرس باید به تعداد زیاد و پشت سرهم ملزومات مذکور را تأمین کند. به ترتیب پمپ با چه دبی (لیتر بر دقیقه) و انباره با فشار شارژ چند بار توصیه می شود؟

(۱) ۱۲۰ - ۲/۵

(۲) ۷۰ - ۳/۵

(۳) ۸۵ - ۸

(۴) ۱۴۰ - ۱۲

مبانی بیومکانیک (۱ و ۲):

۱۲۶- نقش عضله درون گردانگرد (Pronator teres) کدام است؟

(۱) چرخش ساعد به داخل (۲) چرخش ساق به داخل

(۳) چرخش ساعد به خارج (۴) چرخش ساق به خارج

۱۲۷- برای مدل کردن بخش الاستیک بافت های نرم، از کدام قسمت نمودار تنش - کرنش (Stress-Strain) استفاده می شود؟

(۱) قسمت ابتدایی نمودار (toe)

(۲) قسمت خطی نمودار (linear)

(۳) قسمت پلاستیک نمودار (plastic)

(۴) هم قسمت ابتدایی (toe) و هم قسمت خطی نمودار (linear)

۱۲۸- کدام سیال، مدل مناسب تری برای مدل کردن لزجت خون است؟

(۱) نیوتنی (۲) غیر پلاستیک (۳) پلاستیک (۴) غیر نیوتنی

۱۲۹- در هر مفصل، کدام عامل نقش مهم تری برای ایجاد تعادل دارد؟

(۱) نیروها بیشتر از گشتاورها باشند. (۲) نیروها کمتر از گشتاورها باشند.

(۳) برآیند نیروها و گشتاورها خنثی شوند. (۴) نیروها برابر با گشتاورها باشند.

۱۳۰- با افزایش مقدار انقباض در فیبرهای عضلات مورب، زاویه فیبرها با تاندون و درصد نیروی انتقال داده شده از تاندون به استخوان به ترتیب، چه تغییری می کند؟

(۱) افزایش - کاهش (۲) کاهش - کاهش (۳) کاهش - افزایش (۴) افزایش - افزایش

۱۳۱- جرم فردی ۷۵ کیلوگرم و جرم پای او ۱۰ کیلوگرم است. نیروی عکس العمل مفصل در مچ پا، هنگام ایستادن

بدون حرکت چند نیوتن است؟ $(g = 10 \frac{m}{s^2})$

(۱) ۷۵۰ (۲) ۶۵۰

(۳) ۷۴۸/۹ (۴) ۷۶۱/۱

۱۳۲- در طراحی پروتزهای اندام تحتانی، نقاط مناسب برای تحمل وزن، کدام است؟


(۱) بافت نرم که مابین پوست و استخوان قرار داشته باشد.

(۲) بافت همبند که مابین پوست و استخوان قرار داشته باشد.

(۳) بافت سخت که مستقیماً با پروتز در تماس باشد.

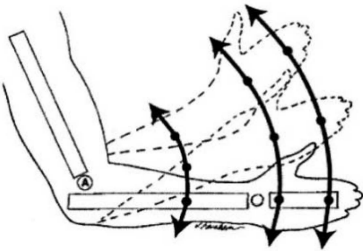
(۴) بافت نرم که مستقیماً با پروتز در تماس باشد.

۱۳۳- در شکل زیر، کدام مورد از سیستم‌های استخوان - ماهیچه بیانگر اهرم نوع سوم نیست؟



- (۱) ساق پا - گروه عضلات همسترینگ در حرکت فلکشن زانو
- (۲) بازو - بخش میانی دلتوئید در حرکت ابداکشن شانه
- (۳) ساعد - دوسربازویی در حرکت اکستنشن آرنج
- (۴) ساق پا - چهارسر ران در حرکت اکستنشن زانو

۱۳۴- در تصویر زیر سرعت زاویه‌ای روی دست، موجب بیشترین سرعت خطی در کدام مفصل یا مفاصل خواهد شد؟



- (۱) مفاصل متافالانژیال
- (۲) مفاصل متاکارپال
- (۳) مفاصل مچ دست
- (۴) مفصل آرنج

۱۳۵- رفتار کدام بافت، از توصیف خطی تنش کرنش فاصله بیشتری دارد؟

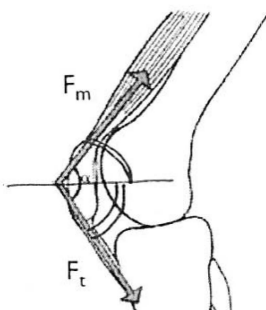
- (۱) میزنا
- (۲) شریان کرونری
- (۳) عضله میوکاردا قلبی
- (۴) شریان آئورت

۱۳۶- کدام مورد، در پایداری مفصل شانه نقش مهم‌تری دارد؟

- (۱) شکل استخوان‌ها در مفصل شانه
- (۲) انعطاف‌پذیری بالای مفصل شانه
- (۳) سطح تماس استخوان‌ها در مفصل شانه
- (۴) کشش در لیگامان‌های اطراف مفصل شانه

۱۳۷- نیروی فشاری وارده بر مفصل پتلافلورال را درحالتی که کشش عضله چهارسر ران ۲۰۰ نیوتن و زاویه بین

عضله چهارسر ران و تاندون پتلا ۱۵۰ و ۶۰ باشد، به ترتیب (از چپ به راست) چند نیوتن است؟



- (۱) ۲۰۰ - ۳۸۶
- (۲) ۳۴۶ - ۳۸۶
- (۳) ۲۰۰ - ۱۰۳
- (۴) ۱۰۳ - ۲۰۰

۱۳۸- خواص مکانیکی دو نوع استخوان تراابکولار (trabecular) و کورتیکال (Cortical) در بدن انسان، چگونه است؟

- (۱) تراابکولار سخت‌تر و کورتیکال نرم‌تر است.
- (۲) تراابکولار نرم‌تر و کورتیکال سخت‌تر است.
- (۳) هر دو کشش (strain) کمی دارند.
- (۴) هر دو کشش (strain) زیادی دارند.

۱۳۹- یک بیمار حجم بطن چپ پایان دیاستولیک (end-diastolic left ventricular volume) ۱۰۰ میلی لیتر و

حجم ضربه (stroke volume) بطن چپ ۵۰ میلی لیتر دارد. نسبت برون‌دهی قلب (ejection fraction)

چند درصد است؟

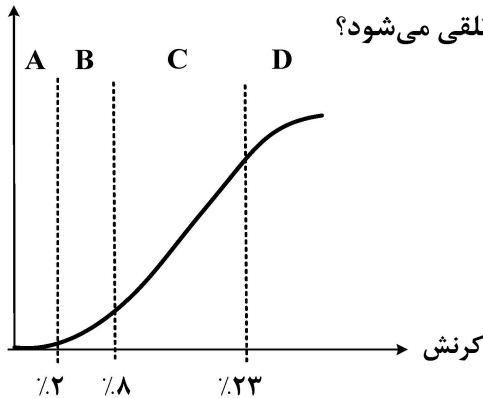
- (۱) ۲۰
- (۲) ۲۵
- (۳) ۵۰
- (۴) ۷۵

۱۴۰- مقاومت استخوان، در برابر کدام حالت بارگذاری کمتر است؟

- (۱) برشی
- (۲) فشاری
- (۳) خمشی
- (۴) کششی

۱۴۱- در کدام فاز دو قسمت اصلی، اندام تحتانی یعنی ساق (Leg) و ران (Thigh) هر دو در حال باز شدن هستند؟

- (۱) بخش اول فاز استنس
(۲) بخش آخر فاز استنس
(۳) بخش اول فاز سوئینگ
(۴) بخش آخر فاز سوئینگ



۱۴۲- رفتار مکانیکی بافت تاندون، در کدام ناحیه(ها)، فیزیولوژیک تلقی می‌شود؟

- (۱) A و B
(۲) B
(۳) B و C
(۴) A

۱۴۳- کدام یک از پارامترهای حرکت در تحلیل سینماتیکی حرکت در نظر گرفته نمی‌شود؟

- (۱) نیروی عکس‌العمل زمین
(۲) مسیر حرکتی
(۳) سرعت حرکت
(۴) شتاب حرکت

۱۴۴- ارتفاع دیسک‌های سالم در یک فرد بالغ، چند برابر ارتفاع ستون مهره‌های فرد است؟

- (۱) ۱
(۲) $\frac{1}{2}$
(۳) $\frac{1}{3}$
(۴) $\frac{1}{4}$

۱۴۵- پروتز زیر زانویی، دارای جرم ۵ کیلوگرم است. مرکز ثقل آن با فاصله ۱۵ سانتی‌متر از مفصل زانو قرار دارد.

شعاع دوران پروتز حول مرکز ثقل آن ۱۵ سانتی‌متر است. گشتاور اینرسی پروتز، حول مفصل زانو چند کیلوگرم بر مترمربع است؟

- (۱) $2/25$
(۲) $1/125$
(۳) $0/225$
(۴) $0/1125$

دروس پایه پزشکی (فیزیولوژی، آناتومی و فیزیکی پزشکی):

۱۴۶- خروج مکانیکی مناسب خون از قلب، به‌طور مستقیم به عملکرد کدام قسمت وابسته است؟

- (۱) گره AV
(۲) گره SA
(۳) فیبرهای پورکینه
(۴) راه‌های بین‌گره‌ای

۱۴۷- در گیرنده‌های کدام حس ویژه، کانال‌های دریچه‌دار کششی نقش اصلی را دارند؟

- (۱) شنوایی
(۲) بویایی
(۳) بینایی
(۴) چشایی

۱۴۸- آنزیم‌های لیزوزومی در کجا ساخته می‌شوند؟

- (۱) دستگاه گلژی
(۲) شبکه آندوپلاسمی نرم
(۳) ریبوزوم‌های سیتوپلاسمی
(۴) شبکه آندوپلاسمی خشن

۱۴۹- در فیبروز ریه ناشی از کرونا، کدام مورد اتفاق می‌افتد؟

- (۱) آنمی
(۲) پلی‌سیتمی کاذب
(۳) پلی‌سیتمی حقیقی اولیه
(۴) پلی‌سیتمی حقیقی ثانویه

- ۱۵۰- علت اولیه شنت ریوی، مربوط به مسیر کدام مورد می باشد؟
 (۱) ورید برونشی (۲) شریان برونشی (۳) شریان ریوی (۴) ورید ریوی
- ۱۵۱- کدام عضو در گرسنگی طولانی، فیدبک منفی لازم را ایجاد می کند؟
 (۱) کلیه (۲) ریه (۳) هیپوفیز (۴) پانکراس
- ۱۵۲- حرکت محتویات روده به دیستال در کدام قسمت کولون، کندتر است؟
 (۱) افقی (۲) بالارو (۳) پایین رو (۴) سیگموئید
- ۱۵۳- اثر هورمون رشد بر رشد استخوانی بیشتر با واسطه کدام یک است؟
 (۱) چربی (۲) کلسیم (۳) پروتئین (۴) کربوهیدرات
- ۱۵۴- کدام حس پیکری، نزدیکتر به حس ویژه است؟
 (۱) تعادل (۲) جنسی (۳) ارتعاش (۴) حرارت
- ۱۵۵- یون هیدروژن، بر گیرنده کدام زوج مغزی تأثیر می گذارد؟
 (۱) ۲ (۲) ۵ (۳) ۷ (۴) ۱۰
- ۱۵۶- بر روی کدام استخوان به طور معمول فشار کمتری وارد می شود؟
 (۱) ایلیم (۲) پوبیس (۳) ایسکیوم (۴) ساکروم
- ۱۵۷- کدام عضله می تواند حرکات متنوع و متناقضی به اندام فوقانی بدهد؟
 (۱) سینه‌ای بزرگ (۲) فوق خاری (۳) گرد بزرگ (۴) دلتوئید
- ۱۵۸- نقش شیپور استاش، تصحیح عملکرد کدام عضو است؟
 (۱) حلزون (۲) حلق و بینی (۳) پرده صماخ (۴) استخوان‌های گوش میانی
- ۱۵۹- هماهنگی اعمال مختلف عمدتاً مربوط به کدام سری از اعصاب است؟
 (۱) راه‌های حرکتی (۲) راه‌های ارتباطی (۳) راه‌های حسی ویژه (۴) راه‌های حسی عمومی
- ۱۶۰- مهم‌ترین عضله تنفسی کدام است؟
 (۱) دیافراگم (۲) پهن پستی (۳) سینه‌ای بزرگ (۴) سینه‌ای کوچک
- ۱۶۱- حرکات کلیشه‌ای از کدام قسمت مغز کنترل می شوند؟
 (۱) ناحیه حرکتی اولیه (۲) ناحیه حرکتی ثانویه (۳) ساقه مغز (۴) مخچه
- ۱۶۲- دوره انقباض ایزوولمیک هم‌زمان با کدام قسمت موج الکتروکاردیوگرام است؟
 (۱) انتهای QRS (۲) ابتدای QRS (۳) ابتدای T (۴) انتهای T
- ۱۶۳- مهم‌ترین عامل در میزان برون‌ده قلب کدام است؟
 (۱) حجم پایانی دیاستولی (۲) حجم پایانی سیستولی (۳) میزان برون‌ده ضربه‌ای (۴) نیاز مجموعه بافت‌ها
- ۱۶۴- بافر فشاری در خون مرتبط با کدام عضو است؟
 (۱) عروق (۲) قلب (۳) کلیه (۴) عصب
- ۱۶۵- کدام حجم ریوی به عملکرد سورفاکتانت در ریه‌ها کمک بیشتری می کند؟
 (۱) جاری (۲) باقیمانده (۳) ذخیره دمی (۴) ذخیره بازدمی